









Sumas en la granja



◆ Suma y escribe cuántos hay.

NOMBRE:

$$25 \text{  + 13 \text{ $$

$$17 \text{  + 11 \text{ $$

$$34 \text{  + 28 \text{ $$

$$3 \text{  + 16 \text{ $$

