

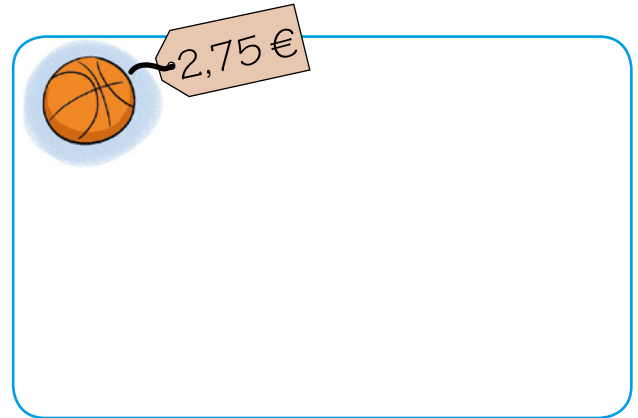
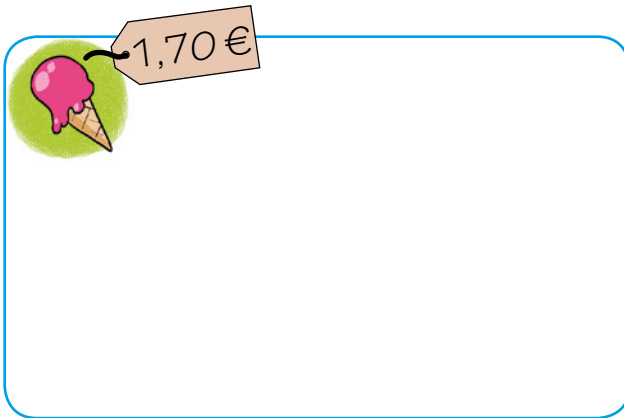
1 Escribe el doble de estos números:

$$2 \rightarrow \square \quad 3 \rightarrow \square \quad 40 \rightarrow \square \quad 42 \rightarrow \square$$


2 Escribe la mitad de estos números:

$$4 \rightarrow \square \quad 80 \rightarrow \square \quad 48 \rightarrow \square \quad 56 \rightarrow \square$$



3 Dibuja las monedas necesarias para pagar estos objetos:



4 ¿Cuánto dinero hay en cada hucha?



5 ¿Cuánto dinero te devuelven?

COMPRO	PAGO CON	ME DEVUELVEN
 1,60 €	2 euros	
 0,45 €	1 euro	

6 Calcula las siguientes sumas:

37+46		

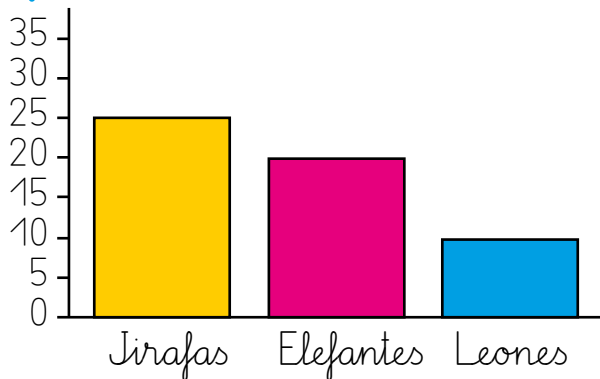
46+47		

7 Calcula las siguientes restas:

54-37		

64-48		

8 Observa el gráfico y escribe cuántos animales hay en el zoo.



Jirafas

Elefantes

Leones

9 De una bolsa de 40 gominolas, nos hemos comido la mitad. ¿Cuántas gominolas quedan?



Quedan gominolas.

10 Almudena ha obtenido 42 puntos en un juego, y Elena, el doble. ¿Cuántos puntos ha obtenido Elena?

Elena ha obtenido puntos.

